



2011

# BALISE BLEUE

Direction Technique Nationale

1. Si tu trouves les zones dessinées ci-dessous sur ta carte peux-tu ou non les traverser sur le terrain.  
Relie la zone à la réponse juste (1 point)

pts



•



•

• Je peux traverser



•

• Je ne peux pas traverser



•

2. Dessine et donne la signification de 2 symboles de couleur Vert (1 point)


pts

SYMBOLE 1 : ..... SYMBOLE 2 : .....

--	--

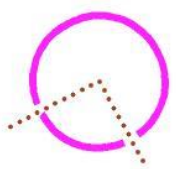
3. Que représente ce symbole ? (1,5 points)

pts

	<input type="checkbox"/> Groupe de rochers <input type="checkbox"/> Rocher <input type="checkbox"/> Colline
---	---

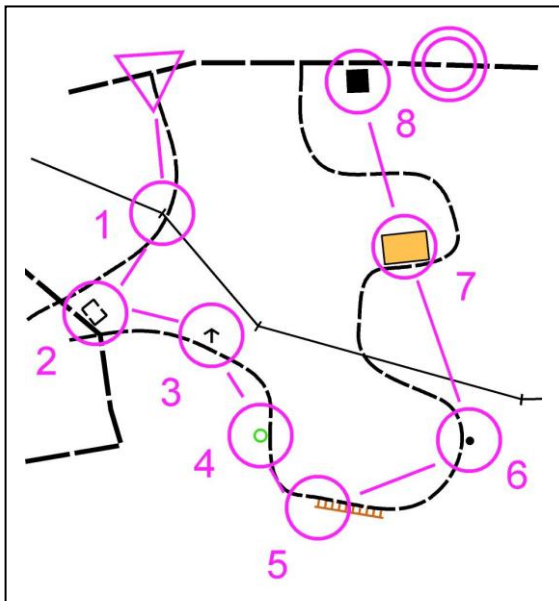
4. Donne la définition de ce poste de contrôle : (1 point)

pts

	
---	--

5. Pour effectuer ce parcours, tu passes à différents postes qui sont situés soit à droite soit à gauche du chemin. Suivant que ces postes se situent à gauche ou à droite du chemin, classe les dans la bonne colonne et donne leur signification (2 points)

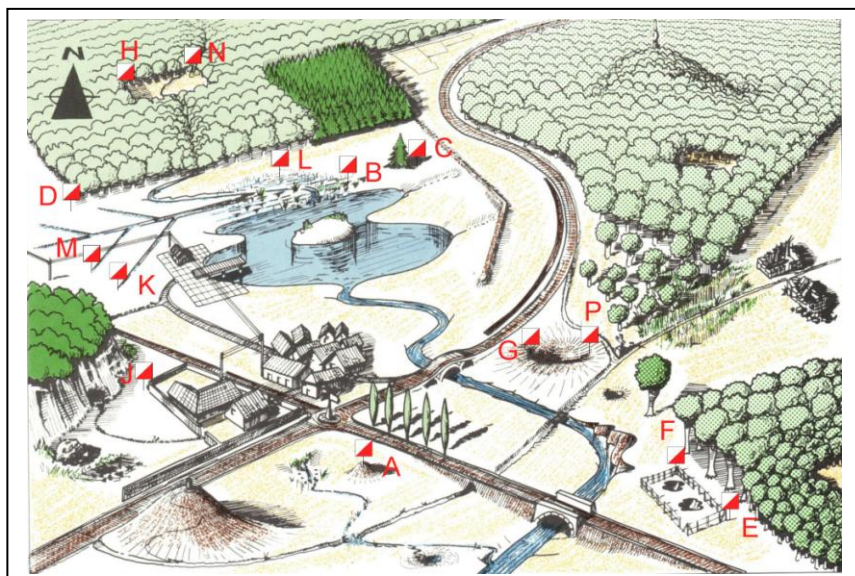
pts



DEFINITIONS ELEMENTS A GAUCHE	DEFINITIONS ELEMENTS A DROITE

6. Trouve la balise correspondant à la bonne définition (Reporte la lettre de la balise dans la case de la définition (attention, il ya plus de balises que de définitions) (2 points)

pts



Limite de végétation - Angle Sud	1
Clôture - Angle Est	2
Marais - Bord Nord	3
Mur - Angle Ouest	4
Dépression - Bord Ouest	5
Clairière - Angle Nord Ouest	6
Butte	7
Fossé le plus au Nord - Extrémité Sud Ouest	8

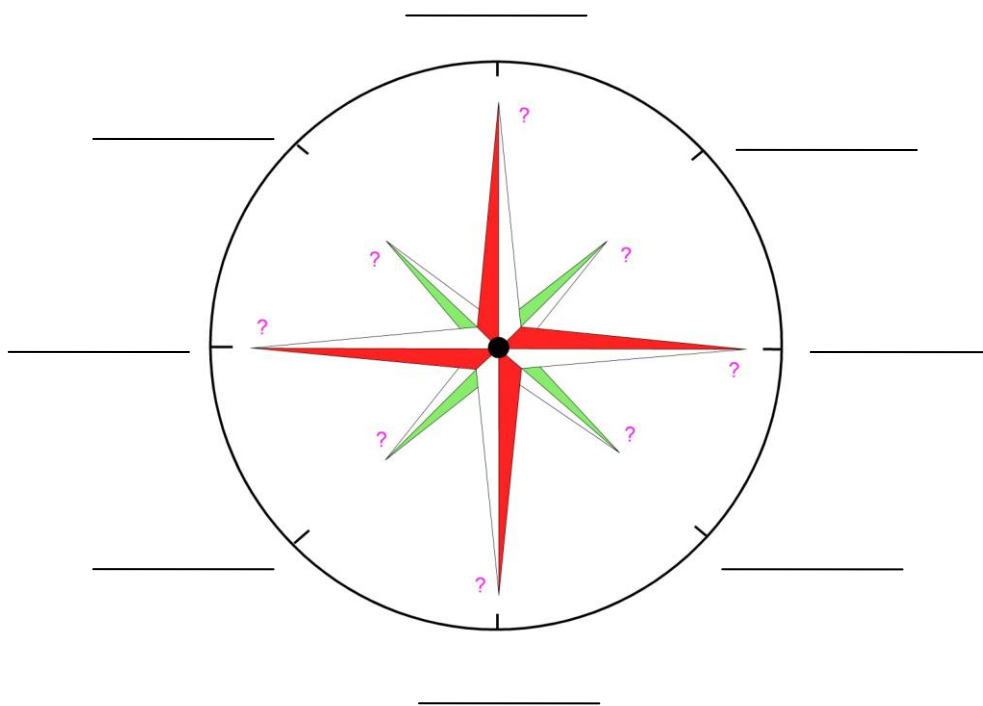
7. Associe le plan à la coupe (1,5 point)

pts

1 = ...                      2 = ...                      3 = ...

8. Indique sur cette boussole, sur le trait correspondant, le SUD, l'EST le NORD-OUEST et le SUD-EST: (1 point)

pts



9. Dessine le symbole correspondant au symbole de la carte et donne sa couleur (2 points)

pts

PETITE RUINE Couleur : .....	TALUS Couleur : .....	GRANDE TOUR Couleur : .....	PUIT - FONTAINE Couleur : .....
---------------------------------	--------------------------	--------------------------------	------------------------------------

10. Est – ce autorisé de faire ce qui est décrit par ce coureur? Entoure la bonne réponse (1 point)

pts

« Je passe au dernier poste, je passe la ligne d'arrivée et poinçonne le poste Arrivée. Je m'aperçois que j'ai oublié de poinçonner le dernier poste. Je retourne rapidement le poinçonner et je repasse la ligne d'arrivée en n'oubliant pas de poinçonner le poste Arrivée une seconde fois »

**AUTORISE**

**PAS AUTORISE**

11. Reporte les postes et les numéros figurant sur la carte sur la photo aérienne (2 points)

pts



12. Sur ces deux cartes pratiquement identiques, trouve 6 erreurs. Note-les en les entourant sur la carte de droite. (1 point)

pts



13. **Dictée'O** . Essaie de trouver l'emplacement de 3 postes que recherche cet orienteur en lisant ce qu'il raconte. Quand tu trouves l'emplacement du poste entoure l'élément sur lequel se trouve la balise. Je te conseille d'orienter la carte et de la lire comme en course (3 points)

pts

« Je suis au triangle de départ. Au top départ je prends le chemin indiqué par la pointe du triangle. Arrivé à la jonction de chemins, je prends le chemin de gauche passe rapidement la jonction suivante et suit le chemin en direction du Nord jusqu'à la prochaine jonction de sentiers où je tourne à droite. Je passe la clôture franchissable à son angle, je rejoins le pré et je suis la limite de végétation en direction de l'Est jusqu'à l'angle du pré où je trouve la balise 1. Après avoir poinçonné le poste, je traverse le pré plein Sud jusqu'au chemin. J'emprunte ce chemin en direction de l'Ouest jusqu'à une intersection. Je tourne à gauche et continue sur le chemin jusqu'à un rocher situé à droite où je trouve la balise 2 que je poinçonne. Je repars vers la jonction de sentiers située immédiatement au Sud. Je tourne à droite et suit le petit sentier jusqu'à une jonction, je tourne alors à gauche et puis à droite à la jonction suivante puis à gauche à la suivante. Je suis alors le chemin jusqu'à un point d'eau situé sur la gauche du chemin où je trouve la balise 3 »

